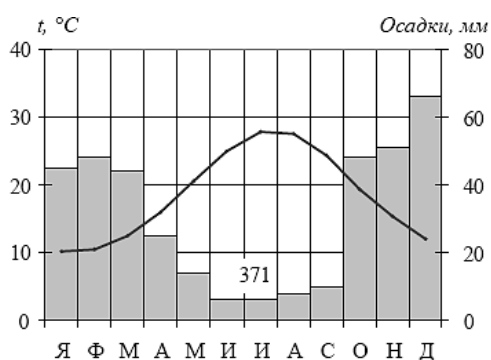
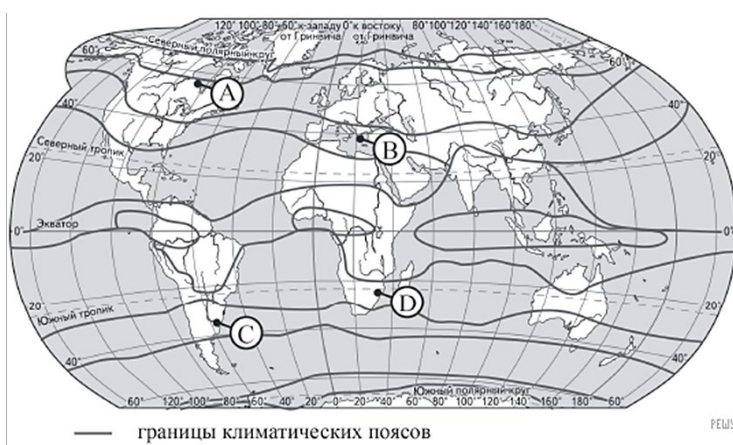


Демонстрация промежуточной аттестации по географии 7 класс

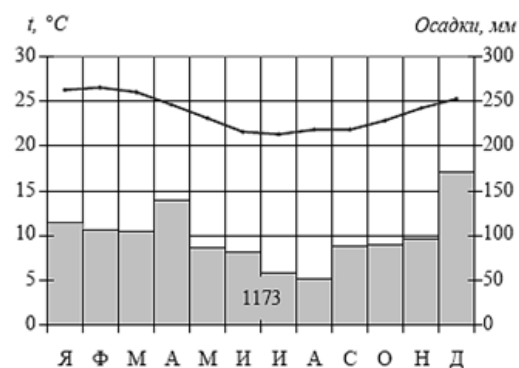
1. Объяснить причины образования величайших горных систем на Земле таких, как Гималаи, Тибет.
2. Где на Земле образуются величайшие равнины мира, такие как Восточно-Европейская и Западно - Сибирская равнины.
3. От чего зависит климат любой территории на Земле?
4. Почему на экваторе Земли самые высокие температуры воздуха и выпадает самое большое количество осадков?
5. Как называются постоянные ветры в жарком поясе Земли, направление и причины их движения?
6. Как называется ветер, который меняет направление 2 раза в год? Какие они бывают, какие их климатические характеристики? Где они господствуют на Земле?



- 1) А 2) В 3) С 4) D



8. Проанализируйте климатограмму и определите, какой буквой на карте обозначен пункт, характеристики климата которого отражены в климатограмме.



- 1) А 2) В 3) С 4) D

8. Установить соответствие между материком и находящейся на нем горной системой:
- 1) Северная Америка а) Гималаи б) Кавказские горы в) Уральские горы
 - 2) Южная Америка г) Анды д) Кордильеры е) Килиманджаро ж) Эфиопское нагорье
 - 3) Африка з) Большой Водораздельный хребет и) Альпы к) Кавказ
 - 4) Австралия
 - 5) Евразия

9. Установить соответствие между материком и находящихся на нем водопадов:
- 1) Евразия
 - 2) Африка
 - 3) Северная Америка
 - 4) Южная Америка
 - а) Виктория б) Ниагарский в) Анхель г) Кивач д) Игуасу
10. Установить соответствие между материком и находящихся на нем озером:
11. 1) Африка а) Байкал б) Титикака в) Виктория г) Танганьика
2) Южная Америка д) Эри е) Ньяса ж) Чад з) Титикака и) Ладожское
3) Австралия к) Мичиган л) Эйр
4) Евразия
5) Северная Америка
12. Установить соответствие между материком и находящихся на нем великих пустынь:
- 1) Африка а) Гоби б) Каракумы в) Кызыл Кумы г) Большая Песчаная
 - 2) Южная Америка д) Атакама е) Сахара ж) Намиб
 - 3) Австралия
 - 4) Евразия
13. Докажите, что материк Евразия северный материк.
14. По каким проливам можно водным путем попасть из Индийского океана в Азовское море?
15. Каким проливом отделена часть света Европа от части света Африка?
16. Каким проливом отделена часть света Азия от части света Америка?
17. Каким проливом отделена часть света Азия от части света Африка?
18. Каким проливом отделена часть света Азия от части света Австралия?
19. Какие ветры оказывают наибольшее влияние на климат востока и юга Евразии?
- 1) западные
 - 2) пассаты
 - 3) муссоны
 - 4) северные
20. Какой климатический пояс характерен для большей территории Евразии?
- 1) экваториальный
 - 2) тропический
 - 3) арктический
 - 4) умеренный
21. О каком климатическом поясе идет речь? Температура самого теплого месяца близка к нулю или отрицательная. Очень мало и количество осадков.
- 1) субарктическом
 - 2) субтропический
 - 3) арктический
 - 4) умеренный
22. Укажите самое влажное место Евразии.
- 1) полуостров Индостан
 - 2) о. Гренландия
 - 3) Черрапунджи (в предгорьях Гималаев)
 - 4) Кавказ
23. Для этого климата умеренного пояса, для которого характерны жаркое лето с ярким солнцем и голубым небом; мягкая влажная зима.
- 1) морской
 - 2) континентальный
 - 3) средиземноморский
 - 4) муссонный